

どこまでが日本？

作:伊藤育雄

日本はどこからどこまでが日本なのでしょう？

まずは、国際社会での約束ごとから学んでいきたいと思います。

【問題1】領土とは、よその国の人や物が勝手に入ることのできない陸地のことをいいます。また、よその国の人や物が勝手にはいることのできない海を領海といますが、それは陸地からどれだけ離れたところまでだと思いますか。

1. 1海里 2. 12海里 3. 120海里 4. 200海里 (1海里=1852m)

【問題1】の答え

2です。海岸線から約22キロメートル以内の海がその国の領海です。

【問題2】問題1の「12海里」とされたのは、今から100年ちょっと前の

<国の名前>

がつくった


<物>

が飛ぶ距離だったからです。

□に入る語句を考えましょう。

【問題2】の答え

「イギリス」がつくった「大砲」が飛ぶ距離です。当時のイギリスは産業が発達していた国で、軍勢力もありました。大砲が届く所までは危険だから、近づかないようにということから、領海という線が引かれました。もともと海は「公海」として、だれでも自由に通ったり、資源を採ったりできる場所でした。




そして、海の資源（魚・貝・石油・天然ガスなど）をめぐって争いがおきないように、1982年に国連海洋法条約で、領海より外の海で海岸から200海里（約370キロメートル）までを「(排他的)経済水域」(Exclusive Economic Zone: EEZ)とすると決められました。「経済水域」では、外国の船は通ってもよいのですが、外国が勝手に資源をとってはいけないとなったのです。

また、最近よく耳にする「接続水域」とは、領海からその外側24海里（約44 km）の線までの海域（領海を除く。）で、その国が自国の領土又は領海内における出入国管理（密輸入や密入国等）又は衛生（伝染病等）に関して防止や処罰を行うことが認められた水域です。

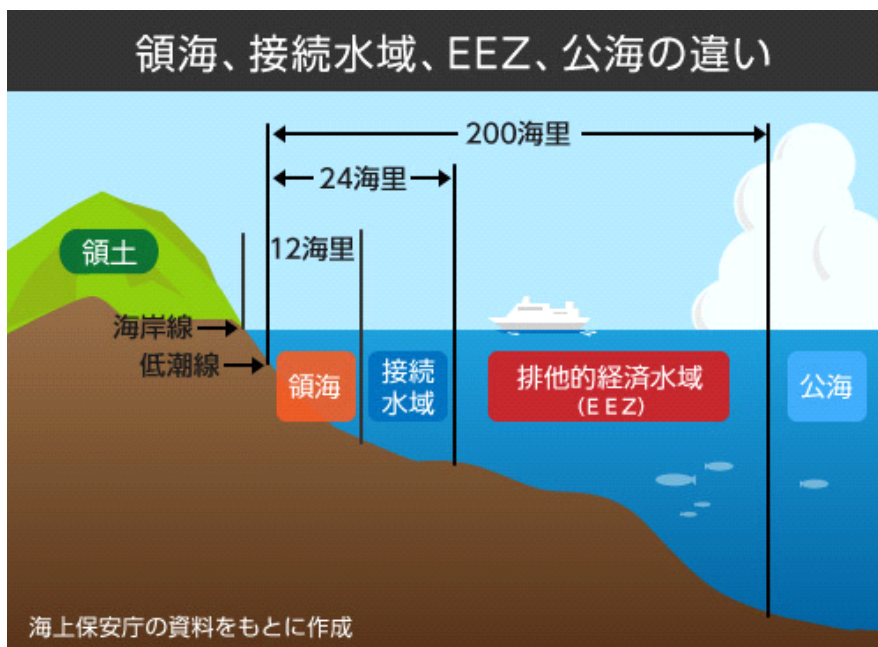
【おまけ】領海・接続水域・経済水域はその国の海岸からの距離で決められていることはわかりましたが、海岸(線)とはどこからでしょうか。

- ア. 満潮時 イ. 干潮時 ウ. その中間



【おまけ】の答え

この干潮時です。そのときの海岸線を低潮線といい、その線からの距離で決められています。



【問題3】領空とは、領土と領海の上空で、外国の飛行機が勝手に入ってはいけない空です。高さは大気圏(気体があるところ)までです。1983年、大韓航空(韓国)の旅客機がソビエト連邦(今のロシア)の領空に入ってしまった。このあと、どうなったと思いますか。

1. 何もおきなかった。
2. ソビエト連邦の戦闘機が発進したため、韓国の旅客機は領空外に出た。
3. ソビエト連邦の戦闘機が誘導して、韓国の旅客機はソビエト連邦内に着陸させられた。
4. ソビエト連邦の戦闘機が攻撃し、韓国の旅客機は海に墜落し、乗客が全員死亡した。



【問題3】の答え

4です。「領空に入ってきた飛行機はスパイ機だとし、攻撃した。」(ソ連の主張)ため、旅客機は海に墜落しました。そして、乗員・乗客269人(日本人28人)全員が死亡しました。パイロットによる自動操縦装置の設定ミスで領空に入ってしまったと言われていますが、領空に入った原因ははっきりとしていません。

問題1～3のまとめになる図です。

『しゃかぼん』4号伊藤育雄ほか監修(朝日新聞社)

しゃかぼん ● 4-21

【問題4】次の表に○(できる)・×(できない)を入れましょう。

		外国の人が勝手に入ること。	外国の人が勝手に資源をとること。
領空	領土		
	領海		
接続水域			
経済水域			
公海・公空			

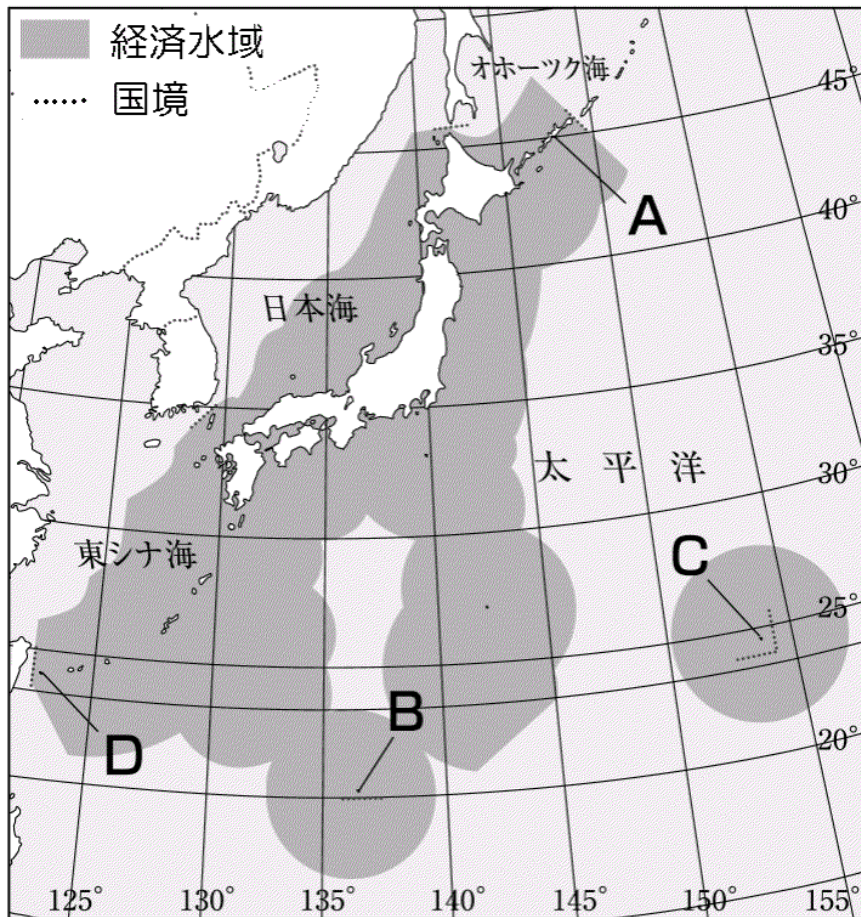
【問題4】の答え

領	領土	×	×
空	領海	×	×
接続水域		○(△)	×
経済水域		○	×
公海		○	○

【問題5】日本の領土はどこからどこまでですか。島国なので、全部が島です。下の□から選び、番号を入れましょう。

- | | | | | | |
|---------|--------|--------|---------|---------|---------|
| 1. 沖ノ鳥島 | 2. 対馬 | 3. 母島 | 4. 西表島 | 5. 国後島 | 6. 与那国島 |
| 7. 八丈島 | 8. 択捉島 | 9. 佐渡島 | 10. 礼文島 | 11. 淡路島 | 12. 南鳥島 |

A 北端	<input type="text"/>	B 南端	<input type="text"/>
C 東端	<input type="text"/>	D 西端	<input type="text"/>



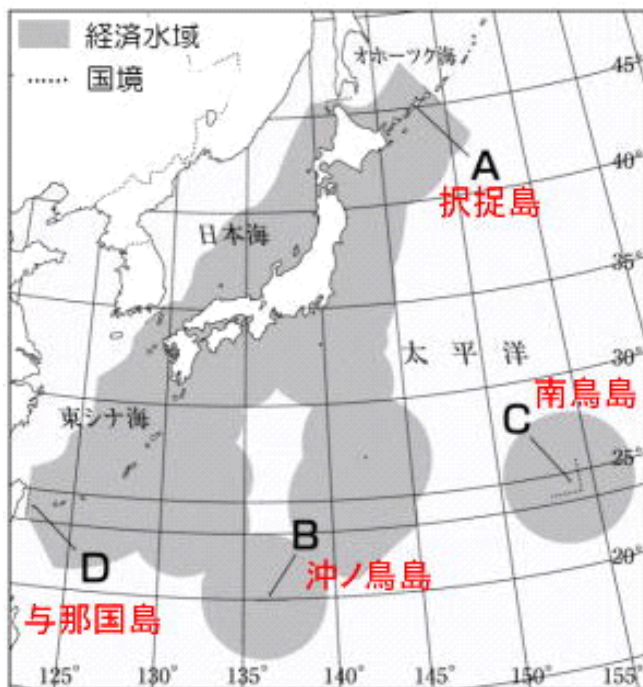
【問題5】の答え

北端…8. 択捉島 南端…1. 沖ノ鳥島 東端…12. 南鳥島 西端…6. 与那国島です。

【問題6】Aの島には、日本人が住んでいません。それはどうしてですか。

【問題7】Bの島には、政府が10億円をかけてあることをしました。どんなことをしたのでしょうか。

【問題8】Cの島には、日本人が住んでいますが、観光にはいけません。それはどうしてですか。



【問題6】の答え

択捉島を含む北方四島は日本の領土であるとし、日本は北方領土とよんでいます。しかし、現在はロシア(もとソ連)人が住んでいます。



↑南鳥島
↓与那国島



↑沖ノ鳥島
↓北方領土

1945年、日本は太平洋戦争に敗戦しました。8月15日に、降伏することを連合国に伝えたのですが、千島列島ではその後もソ連軍が侵攻してきたため、日本軍との戦いが続いていました。アメリカとの間で千島列島を占領することを合意していたソ連軍は、9月5日までにすべての千島列島を占領しました。



1951年、サンフランシスコ平和条約で千島列島は放棄するとアメリカ側の国々と約束して、日本は独立しました。その後、千島列島はソ連(今はロシア)が支配したままになっています。日本は北方領土は千島列島には入らないと主張し、返還を求めています。



【問題7】の答え

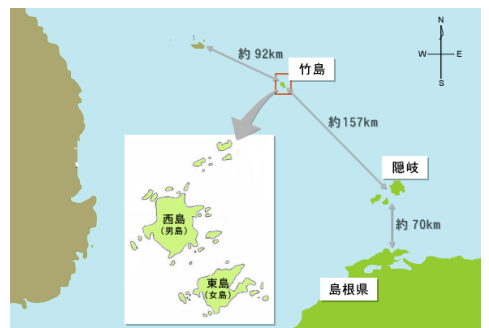
島が沈まないように、10億円をかけて工事しました。写真の白いコンクリートの中が島です。この島のおかげで、地図(前ページ)のBの周りの円が日本の経済水域になっています。

【問題8】の答え

自衛隊と気象庁の人が仕事をしながら住んでいます。観光には行けません。

【問題9】右の地図の「竹島」は、日本の領土ですが、ある国も領土だと主張しています。どこの国ですか。

1. 北朝鮮
2. 韓国
3. 中国
4. 台湾(中国の一部とされていますが、独立国と変わらない活動をしています。)



【問題9】の答え

2の韓国です。今から350年くらい前、1661年に、江戸幕府は日本の漁師が竹島へ行き漁をすることを許しました。1905年に、アシカ漁の基地にするため、竹島は島根県に属すと、日本政府が決めました。1910年には、朝鮮半島への侵略を進め、韓国や北朝鮮を日本の領土としました。(韓国併合)

1945年、太平洋戦争で敗戦し、日本が受け入れたポツダム宣言では、侵略した土地は返す約束になっていました。その約束から、竹島は侵略された土地になるから返すべきと、韓国は主張しています。自国の領土となれば、そこに経済水域がプラスされ、小さな無人島でも重要になってきます。1952年以後、韓国は竹島を実効支配し、自国の領土だとアピールしています。

江戸時代の初めに、竹島は日本の領土として位置づけられたとし、日本は国際司法裁判所で問題を解決しようとしています。しかし、韓国はその裁判を拒否しており、容易には解決できない問題になっています。



【問題10】右下の地図の「尖閣諸島」は、日本の領土ですが、ほかにも領土だと主張しているところがあります。どこですか。(二つあります。)

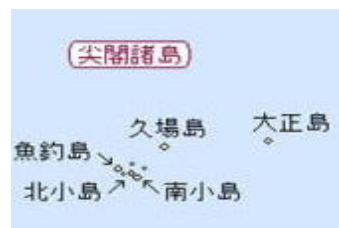
1. 北朝鮮 2. 韓国 3. 中国 4. 台湾



【問題10】の答え

3の中国と4の台湾です。日本は尖閣諸島における領土問題は発生していないとしています。1895年、明治政府は尖閣諸島を沖縄県に編入しました。その後、日本人が住んでいましたが、1940年からは、無人島になりました。1970年までは、中国や台湾の地図に「尖閣諸島」という日本名でのっており、尖閣諸島は日本の領土だと、中国や台湾は認めていました。

しかし、この近くの海(東シナ海)の海底に天然ガス・石油があることがわかると、1971年、台湾と中国は自分の領土だと主張しはじめました。2009年、中国がこの近くの海底で天然ガスをすでに掘っていることがわかりました。経済水域に海底資源があるため、容易には解決できない問題になっています。



もともと海や山というような自然に、線は引いてありません。人間が自国だけの利益を守るために、ここは自国の土地・海・空だと線を引きました。それが領土・領海・領空です。海や海底の資源(魚・石油など)をとるために、人間は経済水域をつくり、海に線がまたふえました。この利益の奪い合いで、戦争が起きたこともあります。人間が生きていくためには資源が必要です。その資源には限りがあり、いずれ枯渇していきます。自国の利益ばかりを考えるのではなく、人間はみんな一つの地球の上に住んでいるんだということを忘れずに、国際協定が結ばれることが必要です。